


16 Νομίσματα και δεκαδικοί αριθμοί

Λύση

1)  Τι μπορούμε ν' αγοράσουμε αν έχουμε :

- περίπου 1 €;
- περίπου 10 €;
- περίπου 100 €;
- περίπου 500 €;

Λύση

2) Με ποια κέρματα ή χαρτονομίσματα μπορώ να συμπληρώσω το ποσό για την αγορά κάθε είδους; Κάνω 2 συνδυασμούς για κάθε είδος.

						
 95 λ			1		2	1
 68 λ						

							
 305€							
 770€							

Λύση

3) Συμπληρώνω σύμφωνα με το παράδειγμα :

- 30 λεπτά του € → 30 εκατοστά του € → 0,30 €
- → 55 εκατοστά του € → €
- 5 λεπτά του € → → €
- → → 0,25 €

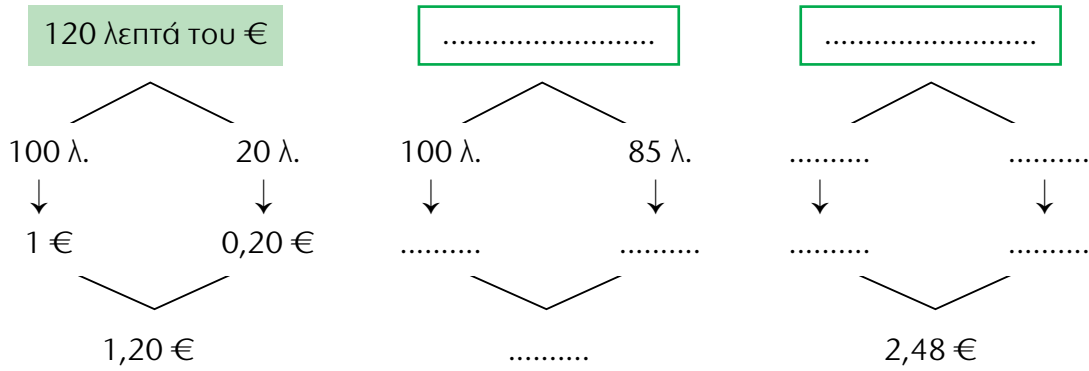
Λύση

4) Σωστό ή λάθος; Σημειώνω Σ ή Λ.

- Τα  είναι το δεκαπλάσιο του  .
- Τα  είναι το διπλάσιο των  .
- Τα  είναι το δεκαπλάσιο των  .
- Τα  είναι το τετραπλάσιο των  .
- Τα  είναι 0,50 € .

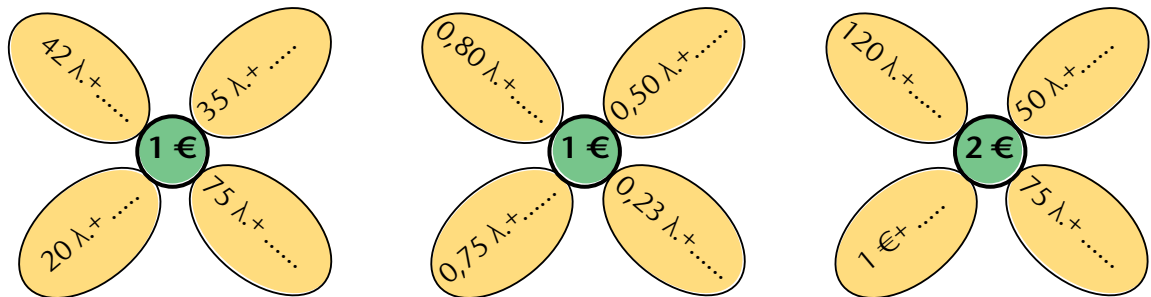
Λύση

5) Συμπληρώνω ό,τι λείπει:




Λύση

6) Συμπληρώνω :



Λύση

7)  Ο Νικίτας πήγε στο βιβλιοπωλείο και αγόρασε τα είδη της εικόνας. Πόσα χρήματα πλήρωσε ;



11 € και 80 λεπτά + 3 € και 20 λεπτά

..... +

Πλήρωσε €.